

苏教版四年级上册数学期末试卷

(满分 100 分, 70 分钟完成)

题号	一	二	三	四	五	总分	等第
得分							

亲爱的同学们, 通过一个学期的学习, 你一定有了沉甸甸的收获, 请亮出你的风采吧! 别忘了仔细审题, 认真答卷哦! 老师相信你一定能行!

【注: 打★题为本人原创题】

一、“认真细致”填一填:(共 25 分, 每空 1 分。)

★1、2008 年“十一”黄金周期间, 常熟各大商场生意火爆, 截止 10 月 7 日晚上, 华联商厦销售额达到了 10200050 元, 这个数读作(), 改写成用“万”作单位的近似数是()。

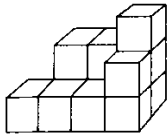
2、与最小的六位数相邻的两个数分别是()和()。

3、 $\square 59 \div 45$ 的商是两位数, \square 里最小填(), 商是一位数, \square 里最大填()。

4、过一点可以画()条直线, 过两点可以画()条直线。

★5、一个周角等于()个直角, ()个 20 度的角的和是一个平角。

6、



是由()个小正方体摆成的。

★7、在 \bigcirc 里填上“>”、“<”或“=”

$527023 \bigcirc 4969200$

$48 \times 7 \bigcirc 350$

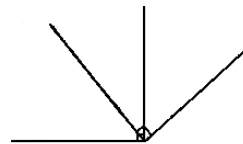
$360 \div 60 \bigcirc 36 \div 6$

$175 - (30 - 6) \bigcirc 175 - (30 + 6)$

8、在公路上有三条小路通往小明家, 它们的长度分别是 125 米、207 米、112 米, 其中有一条小路与公路是垂直的, 那么这条小路的长度是()米。

★9、100 张纸的高度大约是 1 厘米, 照这样推算, 100000000 张这样的纸高度大约是()米, 比珠穆朗玛峰的高度 8844 米要()。(填“高”或“低”)

10、右图中, 有()锐角, ()个直角, ()个钝角。



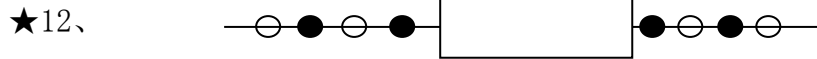
★11、有两个书架, 甲书架有书 80 本, 乙书架有书 50 本, 每次从甲书架拿出 3

姓名

班级

学校

本放入乙书架，拿（ ）次后两个书架的书相等。



小红串了一串黑白相间的珠子（如上图），只有珠子的两端部分露出来，你知道（ ）色的珠子多，多（ ）颗。如果这串珠子中黑珠有 20 颗，那么白珠有（ ）颗。

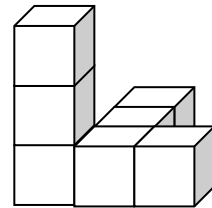
二、“对号入座”选一选：（共 5 分）

★1、一个数四舍五入求近似值为 3 万，这个数最大是（ ）。

- A、 29999 B、 34999 C、 30000 D、 39999

2、如右图，从右面看到形状与（ ）看到的形状相同。

- A、左面 B、上面 C、正面



★3、下面说法正确的是（ ）。

- A、把一条线段向一端延长 100 米，就得到一条射线。
 B、上午 9 时 30 分，钟面上分钟和时针所夹的角是直角。
 C、 $810 \div 5 = (810 \times 2) \div (5 \times 2)$ 。

★4、两人轮流掷小正方体，约定红面朝上算甲赢 1 分，黄面朝上算乙赢 1 分。

用下面正方体（ ）掷是最公平的。

- A、2 红 1 蓝 1 绿 2 黄 B、3 红 1 绿 2 黄 C、1 红 3 蓝 2 黄

5、观察下面的算式： $5 \times 9 = 45$

$$55 \times 99 = 5445$$

$$555 \times 999 = 554445$$

$$5555 \times 9999 = 55544445$$

则 $\underbrace{555 \cdots 5}_{10 \text{ 个 } 5} \times \underbrace{9999 \cdots 9}_{10 \text{ 个 } 9} = (\quad)$

- A、 $\underbrace{555 \cdots 5}_{9 \text{ 个 } 5} \underbrace{5444 \cdots 45}_{9 \text{ 个 } 4}$ B、 $\underbrace{555 \cdots 5}_{10 \text{ 个 } 5} \underbrace{5444 \cdots 45}_{11 \text{ 个 } 4}$ C、 $\underbrace{555 \cdots 5}_{9 \text{ 个 } 5} \underbrace{5444 \cdots 45}_{10 \text{ 个 } 4}$

三、“仔细推敲”判一判：（共 5 分）

- 1、加法结合律改变的是原算式的运算顺序，而加数的位置不变。 ()
 2、三位数除以两位数，商不是两位数就是一位数。 ()

★3、如果游戏规则是公平的，无论操作几次，都无法分出输赢。 ()

★4、 $540 \div 36 = 540 \div 9 \div 4$ ()

5、一个数取了近似数后，就变小了。 ()

★四、“一丝不苟”算一算：（共 34 分）

1、直接写出得数。（8 分）

$240 \div 6 =$

$120 \div 30 =$

$24 \times 5 =$

$360 - 360 \div 6 =$

$90 \div 18 =$

$560 \div 70 =$

$6 \times 15 =$

$312 - 55 - 45 =$

2、用竖式计算，打★的要验算。（8 分）

$627 \div 33 =$

$\star 224 \div 28 =$

$\star 720 \div 68 =$

$966 \div 42 =$

3、计算下列各题，能简算的要简算。（18 分）

$(307 - 208) \div 11$

$276 - 178 + 22$

$25 \times 33 \times 4$

$18 \times (537 - 488)$

$420 \div 14 \div 5$

$184 + 45 + 16$


★五、“手脑并用”画一画：（共 5 分）

(1) 量出下面这个角的度数。（2 分）

(2) 过 A 点画出 l_1 的平行线，画出 l_2 的垂线。（3 分）



六、“走进生活”用一用：（第 1~4 题，每题 5 分；第五题 6 分。）



- (1) 从图上可以看出，() 朝上的次数最多，() 朝上的次数最少。
 (2) 如果把正方体再抛 40 次，你认为“1”朝上的情况会怎么样？在合适的答案下面画“√”

次数最多	次数最少	无法确定
()	()	()

- (3) 如果规定朝上的数大于 3 算小明赢，朝上的数小于 3 算小刚赢，这个游戏规则公平吗？如果不公平，可以怎样修改规则？

公平 ()	-----不用修改-----
不公平 ()	算小明赢
	算小刚赢

祝贺你全部做完了。检查一遍，好吗？或许你会更满意！

附：

参考答案

一、“认真细致”填一填：

- 1、一千零二十万零五十 ， 1020 万 。
- 2、99999 ， 100001 。
- 3、4 ， 3 。
- 4、无数 ， 1 。
- 5、4 ， 18 。
- 6、12 。
- 7、< ， < ， = ， > 。
- 8、112 。
- 9、10000 ， 高 。
- 10、3, 2, 1 。
- 11、5 。
- 12、白 ， 1, 21 。

二、“对号入座”选一选：

1、B； 2、C； 3、C； 4、A； 5、C。

三、“仔细推敲”判一判：

1、√； 2、√； 3、×； 4、√； 5、×。

四、“一丝不苟”算一算：

1、40， 4， 120， 300， 5， 8， 90， 212。

2、29， 8， 1040， 23。

3、9， 120， 330（简算）， 882， 6（简算）， 245（简算）

五、“手脑并用”画一画：

（略）

六、“走进生活”用一用：

1、4千米

2、（1）150元，（2）4副。

3、够。

4、9棵。

5、（1）3， 4。（2）无法确定。（3）答案不唯一。