

# 2014-2015 学年苏教版三年级上学期数学期末测试卷

班级\_\_\_\_\_姓名\_\_\_\_\_成绩\_\_\_\_\_

一、填空题。(没空 1 分, 共 25 分)

1. 由 5 个千, 6 个百和 3 个一组成的数是 ( ), 三千零二十八写作 ( )。

2.  $\square 2 \div 4$ , 要使商是两位数,  $\square$  里最小应填 ( ), 要使商是一位数,  $\square$  里最大可填 ( )。

3. 在  $\bigcirc$  里填上 “ $>$ ”、“ $<$ ”、或 “ $=$ ”。

$$4930 \bigcirc 4069$$

$$\frac{1}{7} \bigcirc \frac{1}{5}$$

$$6 \times 128 \bigcirc 125 \times 6$$

$$5900 \text{ 克} \bigcirc 59 \text{ 千克}$$

$$\frac{2}{8} \bigcirc \frac{5}{8}$$

$$96 \div 2 \div 4 \bigcirc 96 \div 8$$

4. 填上合适的单位名称。

一个冬瓜重约 6 ( ); 一个鸡蛋约重 60 ( );

一个铅球重 4 ( ); 小明身高约 155 ( );

5. 一个数除以 8, 余数最大是 ( ),  $4 \times 345$  的积是 ( ) 位数。

6. 48 名同学去滨江森林公园野营, 每 5 人一个帐篷, 一共需 ( ) 个帐篷。

7. 一个正方形的周长 16 厘米, 那这个正方形的边长是 ( ) 厘米。

8.  $256 \div 5$  的商是 ( ) 位数, 最高位是 ( ) 位。

9. 用 2 个边长是 3 厘米的小正方形拼成一个长方形, 这个长方形周长是 ( ) 厘米。

10. 明明带 13 元钱去买书, 每本书 4 元钱, 他最多能买 ( ) 个本,




还剩 ( ) 元钱。

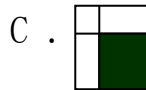
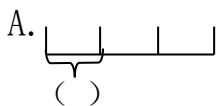
11. 把一张长方形纸平均分成 8 份, 每份是这张长方形纸的 ( ), 5 份是这张长方形纸的 ( )。

二、判断题。(5 分)

1.  $120 \times 5$  的积末尾只有一个 0。 ( )
2. 正方形的周长是它的边长的 4 倍。 ( )
3.  $200 \div 4$  商的末尾有两个 0。 ( )
4. 把一个苹果分成 5 份, 每份是这个苹果的  $\frac{1}{5}$ 。 ( )
5. 正方形不是轴对称图形。 ( )

三、选择题。(10 分)

1. ( ) 的质量大约是 1 千克。  
A. 20 只鸡蛋    B. 1 袋大米    C. 1 个苹果
2.  $192 \times 8$  的积最接近于 ( )。  
A. 800    B. 1600    C. 2000
3. 一台电脑 4850 元, 一台空调器 2088 元。如果两种都买, 大约带 ( ) 元就足够了。  
A. 6000    B. 8000    C. 7000
4. 下面哪个图形是轴对称图形? ( )  
A.     B.     C. 
5. 下面各图的涂色部分能用  $\frac{1}{4}$  表示的是 ( )。



四、计算。

1. 直接写得数。(5分)

$5 \times 60 =$

$96 \div 3 =$

$84 \div 2 =$

$201 \times 4 =$

$80 \div 4 =$

$68 + 17 =$

$71 - 24 =$

$300 \times 7 =$

$\frac{1}{5} + \frac{3}{5} =$

$\frac{5}{8} - \frac{2}{8} =$

2. 用竖式计算，除法要验算。(18分)

$307 \times 6 =$

$360 \times 8 =$


$985 \times 8 =$

$98 \div 4 =$

$75 \div 3 =$


$82 \div 4 =$

五、求下面各图形的周长。(7分)



3 厘米

周长：



4 厘米

周长：

六、解决问题。（每题 5 分，共 25 分。）

1. 张师傅上午生产了 47 个零件，下午生产了 49 个零件。每 8 个零件装一盒，一共要装多少盒？

2. 校园里有水杉树 24 棵，松树的棵数是水杉树的 3 倍。水杉树和松树一共有多少棵？水杉树比松树少多少棵？

3. 学校的教学大楼有 4 层，每层有 6 间教室，每个教室里摆放 8 盆花。一共摆放了多少盆花？

4. 王大伯家有一块菜地，他把其中的种  $\frac{2}{7}$  白菜， $\frac{3}{7}$  种萝卜。种白菜和萝卜的地一共是这块地的几分之几？

5. 丁丁家 9 月份的电话费是 28 元，明明家 9 月份的电话费比丁丁家的 3 倍少 5 元。（先提两个不同的问题，再列式计算）

(1) \_\_\_\_\_ ?

(2) \_\_\_\_\_ ?